

Μάθημα 37

Λύσε τα προβλήματα

😊 Ο Τάκης είχε 10 ευρώ. Έδωσε 2 ευρώ για να αγοράσει καραμέλες, 3 ευρώ για ένα παγωτό και 2 ευρώ για μια σοκολάτα.

- 1) Πόσα ευρώ έκαναν όλα μαζί αυτά που αγόρασε;
- 2) Πόσα ευρώ του έμειναν;

Λογαριάζω:

| |
|-------|
| |
| |



Απαντώ: 1)

2)

😊 Η κυρία Αντιγόνη έφτιαξε χτες 9 κρουασάν και έδωσε 2 σε κάθε εγγονάκι της.

- 1) Πόσα κρουασάν έφαγαν και τα δυο παιδιά μαζί;
- 2) Πόσα κρουασάν της έμειναν;

Λογαριάζω:

| |
|-------|
| |
| |



Απαντώ: 1)

2)

😊 Σε ένα κλουβί του ζωολογικού κήπου ζουν 2 παπαγάλοι, 1 περιστέρι και 1 σπουργίτι.

- 1) Πόσα πουλιά είναι στο κλουβί όλα μαζί;
- 2) Πόσα πόδια έχουν όλα τα πουλιά;

Λογαριάζω:

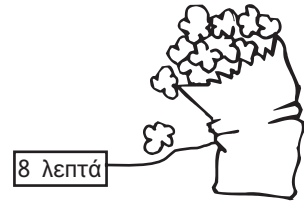
| |
|-------|
| |
| |




Απαντώ: 1)

2)


Τα παιδιά θέλουν να αγοράσουν ποπ κορν.




Κάτια



Αντώνης



Στέλα



Λογάριασε....

Πόσα χρήματα έχει η Κάτια;.....

Πόσα χρήματα έχει ο Αντώνης;

Πόσα χρήματα έχει η Στέλα;

Ποιο παιδί μπορεί να αγοράσει τα ποπ κορν;

Πόσα ρέστα θα πάρει;

Πόσα λεπτά χρειάζεται ακόμα η Κάτια για να αγοράσει τα ποπ κορν;.....

Πόσα λεπτά χρειάζεται ακόμα ο Αντώνης για να αγοράσει τα ποπ κορν;.....

Πόσα λεπτά χρειάζεται ακόμα η Κάτια για να έχει όσα και η Στέλα;

Πόσα λεπτά χρειάζεται ακόμα ο Αντώνης για να έχει όσα και η Στέλα;.....

Όνομα: _____