

ΓΛΩΣΣΑ

1) Συμπληρώνω:

Το Δημοτικό Σχολείο Τρικάλων αποτελείται από έξι αίθουσες διδασκαλίας, βοηθητικές αίθουσες και τα γραφεία του διευθυντή και των δασκάλων.

2) Βάζω σε αλφαβητική σειρά τις λέξεις:

γιατρός, γλάστρα, καρέκλα, λίμνη, παγωτό, ταμείο, ταύρος

3) Στο παρακάτω κείμενο υπογραμμίζω τα ρήματα. (Σε περίπτωση που ένα ρήμα έχει μπροστά το να το υπογραμμίζουμε όλο μαζί)

Την επόμενη βδομάδα η Λία ήρθε στο μάθημα ζωγραφικής και τι να δει;
Πάνω από την έδρα της δασκάλας, μέσα σε μια σκαλιστή χρυσή κορνίζα, καμάρωνε μια τελεία!

Η ΔΙΚΗ ΤΗΣ ΤΕΛΕΙΑ!

«Πφφφ! Μπορώ να κάνω και πιο ωραίες τελείες απ' ΑΥΤΗΝ!» Άνοιξε το κουτί με τις νερομπογιές της, που δεν τις είχε χρησιμοποιήσει ποτέ, και στρώθηκε στη δουλειά.

Ζωγράφιζε, ζωγράφιζε ασταμάτητα η Λία.

Σημείωση: Το είχε χρησιμοποιήσει το υπογραμμίζουμε όλο μαζί γιατί είναι Υπερσυντέλικος, είναι σαν να είναι ένα ρήμα - δεν τον έχουμε μάθει ακόμα αυτόν τον χρόνο.)

4) Συμπληρώνω τους βαθμούς των επιθέτων:

ΘΕΤΙΚΟΣ	ΣΥΓΚΡΙΤΙΚΟΣ	ΥΠΕΡΘΕΤΙΚΟΣ
όμορφος	ομορφότερος πιο όμορφος	ομορφότατος πολύ όμορφος
ψηλός	ψηλότερος πιο ψηλός	ψηλότατος πολύ ψηλός
νόστιμος	νοστιμότερος πιο νόστιμος	νοστιμότατος πολύ νόστιμος
γρήγορος	γρηγορότερος πιο γρήγορος	γρηγορότατος πολύ γρήγορος
έξυπνος	έξυπνότερος πιο έξυπνος	έξυπνότατος πολύ έξυπνος
καλός	καλύτερος πιο καλός	άριστος πολύ καλός

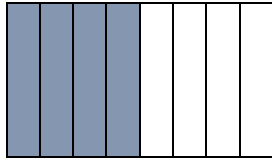

ΜΑΘΗΜΑΤΙΚΑ

1) Χρωματίζω όσο λέει το κλάσμα. (με ξυλομπογιά ή μολύβι)



$\frac{1}{2}$


$\frac{2}{4}$



$$\frac{4}{8}$$

Τι παρατηρείς σχετικά με την ποσότητα που έχεις χρωματίσει και στα τρία σχήματα;
 Οι ποσότητες είναι ίσες _____


2) Κυκλώνω ό,τι λέει το κλάσμα.



$$\frac{3}{4}$$



$$\frac{3}{3}$$



$$\frac{1}{2}$$

3) Πόσο είναι το $\frac{1}{2}$ των 6 παιδιών;



Το $\frac{1}{2}$ των 6 παιδιών είναι 3 παιδιά.

(επειδή: Το $\frac{1}{2}$ του 6 είναι $6 : 2 = 3$ άρα $3 \times 1 = 3$)

- 4) Στους Ολυμπιακούς αγώνες της Αθήνας οι αθλητές της Κίνας κατέκτησαν 32 χρυσά, 17 ασημένια και 14 χάλκινα μετάλλια. Πόσα μετάλλια κατέκτησαν συνολικά οι αθλητές της Κίνας;

Λύση: $32 + 17 + 14 = 63$

Απάντηση: Οι αθλητές της Κίνας κατέκτησαν συνολικά 32 μετάλλια.