



ΜΑΘΗΜΑΤΙΚΑ-ΚΕΦΑΛΑΙΑ: 11-12



1. Παρατήρησε και ζωγράφισε ό,τι λείπει:

 50λ.+20λ.+10λ.	 1 ΕΥΡΩ
 1ευρώ+50λ.+20λ.+20λ.	 2 ΕΥΡΩ
 50λ.+1ευρώ +1 ευρώ	 3 ΕΥΡΩ
 1 ευρώ	 2 ΕΥΡΩ

2. Γράψε κάτω από κάθε πορτοφόλι πόσα ευρώ έχει μέσα:























4 ευρώ

3 ευρώ

2 ευρώ

3. Υπολόγισε τα ρέστα που θα πάρει κάθε παιδικός ήρωας:

Ήρωας:	Έδωσε:	Κοστίζει:	Ρέστα:
		6 λεπτά	$10\lambda \begin{cases} \swarrow 6\lambda \\ \searrow 4\lambda \text{ ρέστα} \end{cases}$
		10 λεπτά	$20\lambda \begin{cases} \swarrow 10\lambda \\ \searrow 10\lambda \text{ ρέστα} \end{cases}$
		20 λεπτά	$50\lambda \begin{cases} \swarrow 20\lambda \\ \searrow 30\lambda \text{ ρέστα} \end{cases}$
		80 λεπτά	$1\text{ €} = 100\lambda \begin{cases} \swarrow 80\lambda \\ \searrow 20\lambda \text{ ρέστα} \end{cases}$
		1 ευρώ και 60 λεπτά	$2\text{ €} \begin{cases} \swarrow 1\text{ €} \\ \searrow 60\lambda \end{cases} \begin{cases} \rightarrow 1\text{ €} = 100\lambda \\ \swarrow 40\lambda \text{ ρέστα} \end{cases}$
		6 λεπτά	$7\lambda \begin{cases} \swarrow 6\lambda \text{ ρέστα} \\ \searrow 1\lambda \text{ ρέστα} \end{cases}$
		90 λεπτά	$1\text{ €} = 100\lambda \begin{cases} \swarrow 90\lambda \\ \searrow 10\lambda \text{ ρέστα} \end{cases}$
		30 λεπτά	$50\lambda \begin{cases} \swarrow 30\lambda \\ \searrow 20\lambda \text{ ρέστα} \end{cases}$
		1 ευρώ και 80 λεπτά	$2\text{ €} \begin{cases} \swarrow 1\text{ €} \\ \searrow 80\lambda \end{cases} \begin{cases} \rightarrow 1\text{ €} = 100\lambda \\ \swarrow 20\lambda \text{ ρέστα} \end{cases}$
		8 λεπτά	$20\lambda \begin{cases} \swarrow 8\lambda \\ \searrow 12\lambda \text{ ρέστα} \end{cases}$

