

Παιδάκια γεια σας!

Είμαι πολύ χαρούμενη γιατί έρχονται όλο και περισσότεροι στην διαδικτυακή μας παρέα και έχω επικοινωνία πλέον σχεδόν με όλους σας! Θα περιμένω λίγες μέρες ακόμα για την εργασία με τις ζωγραφιές κι έπειτα θα τα ανεβάσω να τα δείτε. Προς το παρόν ακολουθούν ασκησούλες σε ΓΛΩΣΣΑ και ΜΑΘΗΜΑΤΙΚΑ.

ΓΛΩΣΣΑ

1) Διαβάζω από το Ανθολόγιο

<http://ebooks.edu.gr/modules/ebook/show.php/DSDIM-C106/332/2260,8521/> το κείμενο του Ντιντιέ Λεβύ, «Αντζελμαν» και απαντώ στις ερωτήσεις 2 και 3, σελ. 177. Μου το στέλνετε με **mail**.

2) Συμπληρώνω με τα σωστά γράμματα:

- Μη ρίχν__ς κάτω τα ψ__χουλα.
- Έχασα τ__ συνταγή για τα τ__ροπ__τάκια
- Οι μ__ρωδ__ές από τ__ν κουζίνα μάς έχουν σπάσει τ__ μ__τη.
- Το πρω__νό της Κ__ριακής δεν χτ__πάει το ξ__πν__τήρ__.
- Μπορ__ς να μ__ράσεις τ__ς προσκλ__σ__ς;

3) Συλλαβίζω τις λέξεις:

κιμωλία _____

κόλλα _____

χάρτης _____

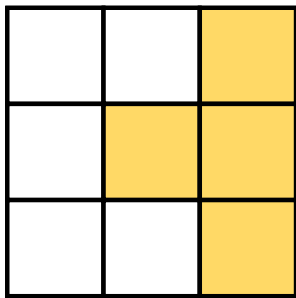
τετράδιο _____

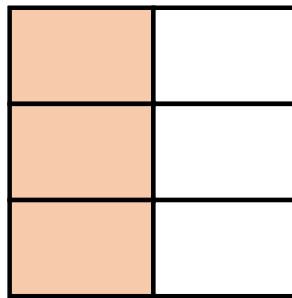
κατσαρίδα _____


άνθος _____

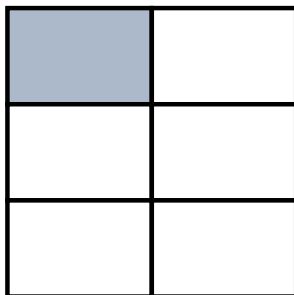
ΜΑΘΗΜΑΤΙΚΑ


1) Γράφω το κλάσμα που δηλώνει το χρωματισμένο μέρος κάθε σχήματος:

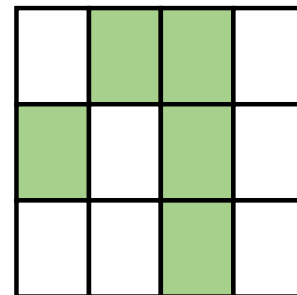












2) Κάνω τις πράξεις (όπως έχουμε μάθει οριζόντια – όπου χρειάζεται πολ/ζουμε πρώτα με τις μονάδες, μετά με τις δεκάδες και προσθέτουμε και τέλος δεν ξεχνάμε τα μηδενικά):

α) $30 \times 4 =$

β) $23 \times 100 =$

γ) $5 \times 500 =$

δ) $11 \times 20 =$

ε) $12 \times 30 =$

στ) $13 \times 400 =$

ζ) $20 \times 10 =$

η) $20 \times 300 =$

θ) $150 \times 20 =$

- 3) Ο κύριος Παναγιώτης έβαψε το διαμέρισμά του και ξόδεψε συνολικά 1.800 €. Από αυτά τα χρήματα, 875 € πήρε ο ελαιοχρωματιστής, 325 € ο βοηθός του και με τα υπόλοιπα αγόρασαν υλικά. Πόσα ευρώ κόστισαν τα υλικά;

Λύση:

Απάντηση: _____

- 4) Ένας ανθοπώλης πούλησε 29 ανθοδέσμες που η καθεμία είχε 15 τριαντάφυλλα. Αν κάθε τριαντάφυλλο κόστιζε 3 €, πόσα χρήματα εισέπραξε ο ανθοπώλης από τις ανθοδέσμες;

Λυση:

Απάντηση: _____