

Γεια σας και σήμερα,

Πρέπει να σας πω ότι λαμβάνω πολύ ωραίες εργασίες και μπράβο σε όλους που εργάζεστε και προσπαθείτε έστω και με αυτές τις δύσκολες συνθήκες.

Για σήμερα έχουμε τα εξής: Όπως είχα πει, το τεστ που θα έβαζα στην Οδύσσεια θα το κάνετε ως επαναληπτική εργασία και με το βιβλίο ανοιχτό. Μπορείτε να προσπαθήσετε αρχικά να το συμπληρώσετε χωρίς να κοιτάξετε το βιβλίο, να δείτε τι θυμάστε, και στη συνέχεια ανοίγουμε το βιβλίο και συμπληρώνουμε τις πληροφορίες που δεν θυμόμαστε. Την τελευταία ερώτηση την είχαμε συζητήσει στην τάξη αν θυμάστε. Όποιος έλειπε ας προσπαθήσει να την κάνει μόνος του και όπως και να χει θα στείλω και απαντήσεις.

Επιπλέον μπορείτε να δείτε το υπόλοιπο του βίντεο που παρακολουθήσαμε (νομίζω είχαμε μείνει στο 1:15:00) <https://www.youtube.com/watch?v=5bfk6OudntI&t=4538s>

Ακολουθούν οι [ΕΠΑΝΑΛΗΠΤΙΚΕΣ ΑΣΚΗΣΕΙΣ ΙΣΤΟΡΙΑΣ](#) και [ΜΑΘΗΜΑΤΙΚΑ](#)

ΕΠΑΝΑΛΗΠΤΙΚΕΣ ΑΣΚΗΣΕΙΣ

ΟΔΥΣΣΕΙΑ

1) Συμπληρώνω:

- Οι σύντροφοι του Οδυσσέα όταν συνάντησαν τους Λωτοφάγους, εκείνοι τους έδωσαν να φάνε _____ που ήταν φρούτα _____.
- Ο Κύκλωπας _____, γιος του Ποσειδώνα, έκλεισε την πόρτα της σπηλιάς με έναν τεράστιο βράχο. «Ποιο είναι το όνομά σου», ρώτησε τον Οδυσσέα. «_____ με φωνάζουν», απάντησε εκείνος.
- Η Κίρκη ήταν μάγισσα που πρόσφερε ένα _____ στους ανθρώπους, μετά τους χτυπούσε με το _____ και τους έκανε _____.
- Οι Σειρήνες μάγευαν τους ναυτικούς με το γλυκό _____ τους κι όταν αυτοί πλησίαζαν τους _____.
- Η _____ λυπήθηκε τον Οδυσσέα που ήθελε να φύγει από το νησί της Καλυψώς και παρακάλεσε τον _____ να τον βοηθήσει.
- Μετά το νησί της Καλυψώς ο Οδυσσέας βρέθηκε στο νησί _____ όπου τον βρήκε η βασιλοπούλα _____ και τον οδήγησε στο παλάτι του πατέρα της.

2) Κυκλώνω το σωστό:

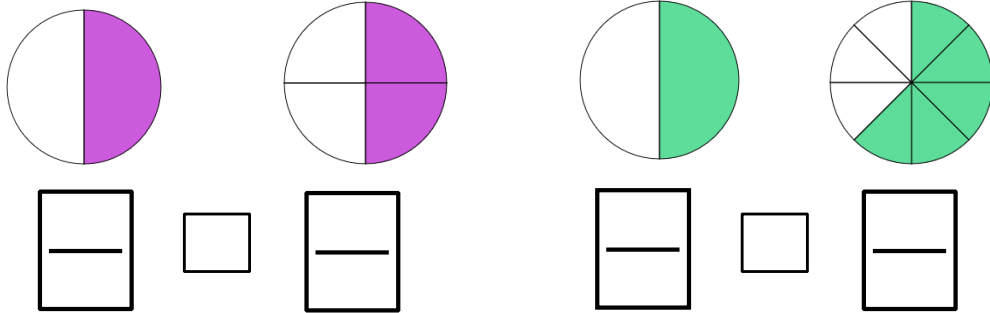
- Οι άνεμοι που βγήκαν έξω από το ασκί του Αιόλου, έσπρωξαν τα καράβια
 - α) στο νησί των Κυκλώπων β) στη γη των Λαιστρυγόνων
 - γ) στο νησί της Κίρκης
- Η Χάρυβδη ήταν:
 - α) ρουφήχτρα β) φίδι που ζούσε σε σπηλιά γ) τέρας σε μορφή σκύλου
- Πόσα χρόνια έμεινε ο Οδυσσέας στο νησί της Καλυψώς;
 - α) δύο β) επτά γ) πέντε
- Η Ευρύκλεια αναγνώρισε τον Οδυσσέα από ένα σημάδι
 - α) στο δεξί του γόνατο β) στη φτέρνα γ) στο αριστερό του γόνατο

ΜΑΘΗΜΑΤΙΚΑ

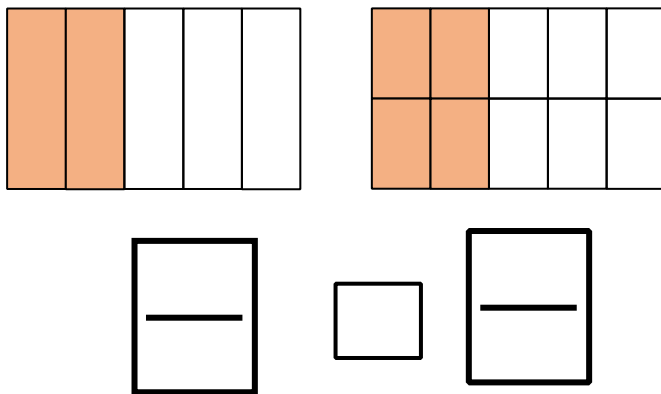
1) Γράφω τα κλάσματα και στη συνέχεια βάζω στο κουτάκι το σύμβολο της ισότητας (=) ΑΝ ΕΙΝΑΙ ΙΣΑ. (διαφορετικά το αφήνω κενό)

A

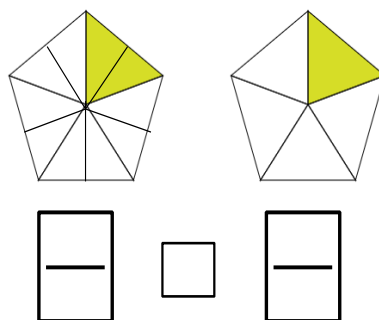
B



Γ



Δ



- 2) Ο παππούς του Στέλιου έχει 5 κουνελάκια. Τα 2 από αυτά είναι γκρίζα. Τι μέρος από τα κουνελάκια είναι γκρίζα;
(θυμίζω ότι όταν μας ρωτούν *τι μέρος* απαντάμε με κλάσμα)

Απάντηση: _____

- 3) Στην αποθήκη ενός σχολείου υπάρχουν 36 μπάλες. Από αυτές τα $\frac{2}{9}$ είναι μπάλες βόλεϊ, τα $\frac{2}{6}$ είναι μπάλες μπάσκετ και οι υπόλοιπες είναι μπάλες ποδοσφαίρου.

- α) Πόσες είναι οι μπάλες βόλεϊ;
β) Πόσες είναι οι μπάλες μπάσκετ;
γ) Πόσες είναι οι μπάλες ποδοσφαίρου;

Λύση: (σας γράφω την αρχή για να θυμίσω πώς θα εργαστείτε, τα έχουμε ξανακάνει.)

μπάλες βόλεϊ: Τα $\frac{2}{9}$ του 36 είναι:

Μπάλες μπάσκετ:

Μπάσκετ ποδοσφαίρου: