

ΠΡΟΒΛΗΜΑΤΑ

1. Η κυρία Βάσω είναι ζαχαροπλάστης. Φτιάχνει καθημερινά **25** ταψιά με κρουασάν βουτύρου. Κάθε ταψί χωράει **14** κρουασάν. Πόσα κρουασάν φτιάχνει συνολικά καθημερινά η κυρία Βάσω;

ΛΥΣΗ



2. Οι μαθητές ενός σχολείου πήγαν την Παρασκευή εκδρομή και παρακολούθησαν μια θεατρική παράσταση. Για να μεταφερθούν χρειάστηκαν 6 λεωφορεία. Σε κάθε λεωφορείο χρησιμοποιήθηκαν και οι 53 θέσεις. Μπορείς να υπολογίσεις:



A. Πόσοι ήταν συνολικά οι μαθητές του σχολείου;

B. Αν κάθε μαθητής πλήρωσε 12 ευρώ για την μεταφορά του και το εισιτήριο της παράστασης, πόσα χρήματα πλήρωσαν συνολικά οι μαθητές;

ΛΥΣΗ A

ΛΥΣΗ B

3. Ο Νίκος μαζεύει αυτοκόλλητα και τα κολλάει σε ένα άλμπουμ. Κάθε σελίδα χωράει **18** αυτοκόλλητα. Αν το άλμπουμ του έχει **23** σελίδες, πόσα αυτοκόλλητα έχει ο Αποστόλης συνολικά;

ΛΥΣΗ




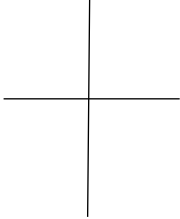
ΑΣΚΗΣΕΙΣ

4. Κάνε τους παρακάτω πολλαπλασιασμούς κάθετα και δίπλα τις επαληθεύσεις τους.

45×9


38×24


	
--	---

	
--	---

246×3

78×90

	
--	---

	
--	---

5. Υπολογίζω τα γινόμενα

(βγάζω τα μηδενικά με παρένθεση, πολλαπλασιάζω και τα βάζω στο τέλος.)

$70 \times 6 = \underline{\hspace{2cm}}$

$20 \times 20 = \underline{\hspace{2cm}}$

$70 \times 40 = \underline{\hspace{2cm}}$

$30 \times 50 = \underline{\hspace{2cm}}$

$400 \times 10 = \underline{\hspace{2cm}}$

$60 \times 5 = \underline{\hspace{2cm}}$

$10 \times 9 = \underline{\hspace{2cm}}$

$700 \times 5 = \underline{\hspace{2cm}}$

$12 \times 10 = \underline{\hspace{2cm}}$