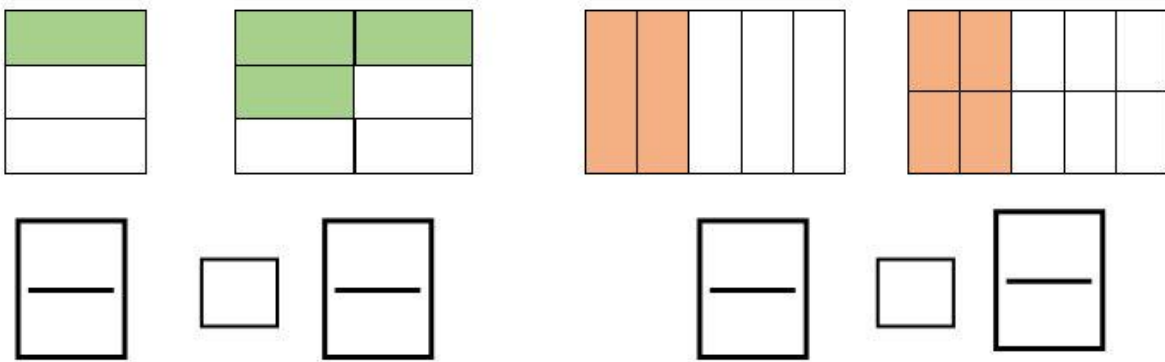
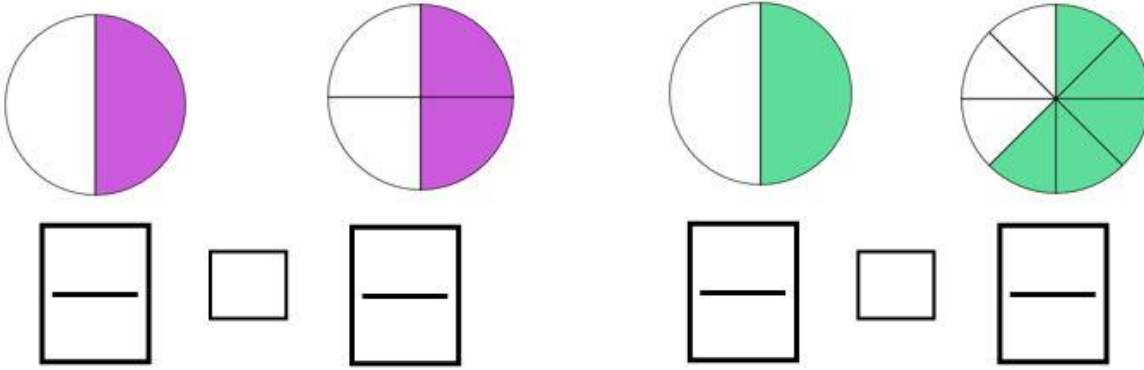
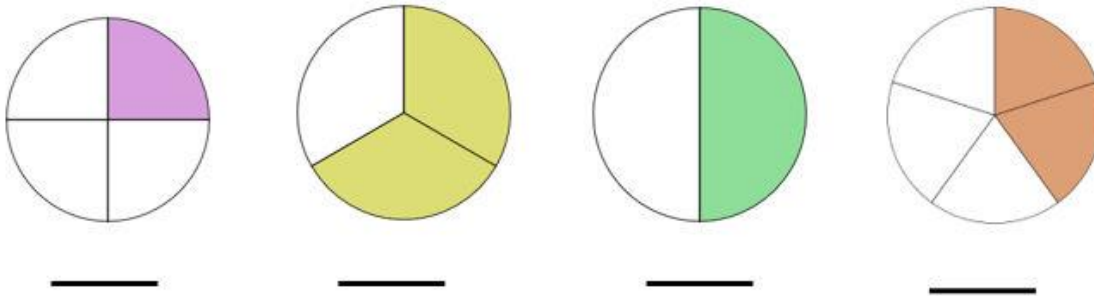


## ΑΣΚΗΣΕΙΣ

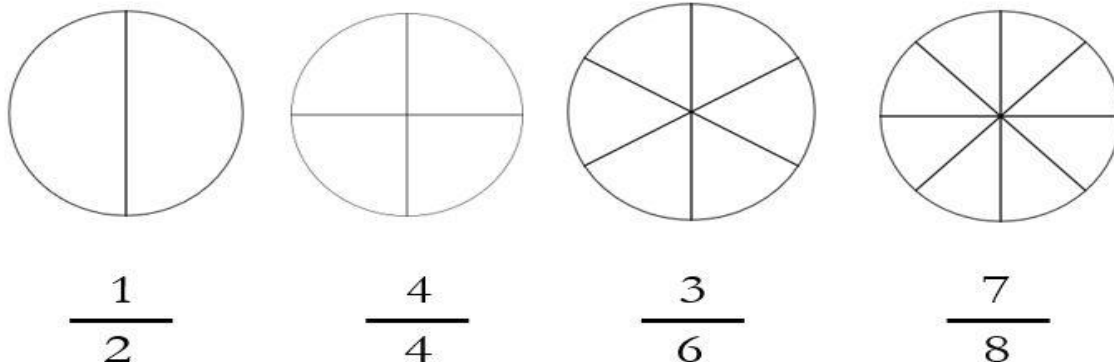
1. Γράφω τα κλάσματα. Έπειτα βάζω το σύμβολο της ισότητας (=) ΜΟΝΟ στα ζεύγη κλασμάτων που είναι ισοδύναμα.



2. Γράφω το κατάλληλο κλάσμα, που δείχνει τι μέρος κάθε κύκλου είναι χρωματισμένο.

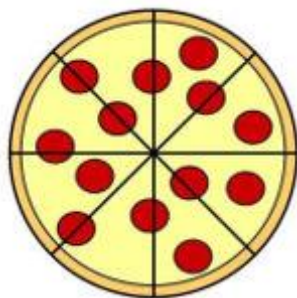


3. Χρωματίζω το μέρος του κύκλου που μου δείχνει κάθε κλάσμα.



4. Ο Δημήτρης και ο Παναγιώτης παραγγέλνουν πίτσα στο σπίτι. Η πίτσα είναι χωρισμένη σε 8 κομμάτια.

Δημήτρης




Παναγιώτης

Ο Δημήτρης τρώει το  $\frac{1}{2}$  της πίτσας. Πόσα κομμάτια έφαγε; \_\_\_\_\_

Ο Παναγιώτης τρώει τα  $\frac{4}{8}$  της πίτσας. Πόσα κομμάτια έφαγε; \_\_\_\_\_

Ποιος έφαγε περισσότερα κομμάτια; \_\_\_\_\_

5. Τα παιδιά μοιράστηκαν τα παρακάτω μπισκότα.



Όλα τα  
μπισκότα είναι

\_\_\_\_\_

Γράφω με κλάσμα πόσα μπισκότα πήρε το κάθε παιδί.

Πέτρος



_____
-------

Ελπίδα



_____
-------

Φωτεινή



_____
-------