

# ΛΥΣΕΙΣ

## Άσκηση 1



$$\frac{1}{2}$$

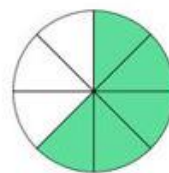
=




$$\frac{2}{4}$$



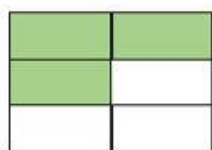
$$\frac{1}{2}$$



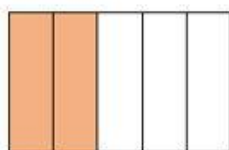
$$\frac{5}{8}$$



$$\frac{1}{3}$$

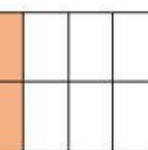


$$\frac{3}{6}$$



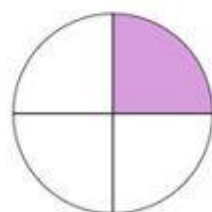
$$\frac{2}{5}$$

=

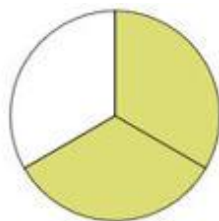


$$\frac{4}{10}$$

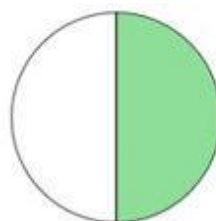
## Άσκηση 2



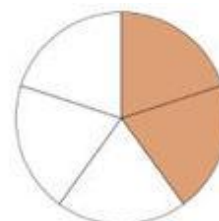
$$\frac{1}{4}$$



$$\frac{2}{3}$$



$$\frac{1}{2}$$



$$\frac{2}{5}$$

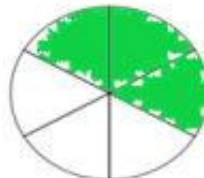
## Άσκηση 3



$$\frac{1}{2}$$



$$\frac{4}{4}$$



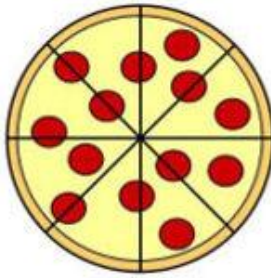
$$\frac{3}{6}$$



$$\frac{7}{8}$$

### Άσκηση 4

Δημήτρης



Παναγιώτης

Ο Δημήτρης τρώει το  $\frac{1}{2}$  της πίτσας. Πόσα κομμάτια έφαγε; 4

Ο Παναγιώτης τρώει τα  $\frac{4}{8}$  της πίτσας. Πόσα κομμάτια έφαγε; 4

Ποιος έφαγε περισσότερα κομμάτια; Έφαγαν το ίδιο

### Άσκηση 5



Όλα τα  
μπισκότα είναι

12

Γράφω με κλάσμα πόσα μπισκότα πήρε το κάθε παιδί.

Πέτρος



$$\frac{5}{12}$$

Ελπίδα



$$\frac{3}{12}$$

Φωτεινή



$$\frac{4}{12}$$